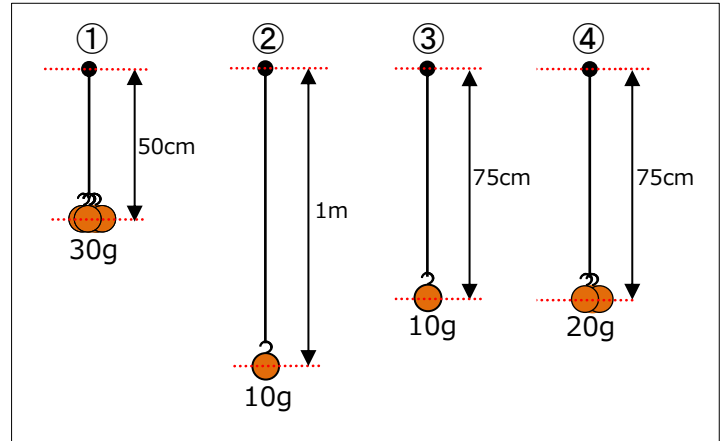


# 16 ふりこの運動

ふりがが<sup>おうふく</sup>1往復する時間は何によって変わるのかを調べました。

- (1) ふりこの長さによって変わるかどうかを調べるには、  
①～④のどれとどれを比べるとよいですか。

(       ) と (       )



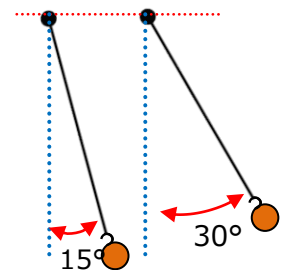
- (2) おもりの重さによって変わるかどうかを調べるには、①～④のどれとどれを比べますか。

(       ) と (       )

- (3) ①～④のうち、1往復する時間が一番長いのはどれですか。

(       )

- (4) 右の図のように、ふりこのふれはばを大きくすると、ふりがが1往復する時間はどうなりますか。



(       )

- (5) ふりがが1往復する時間は、何によって変わりますか。

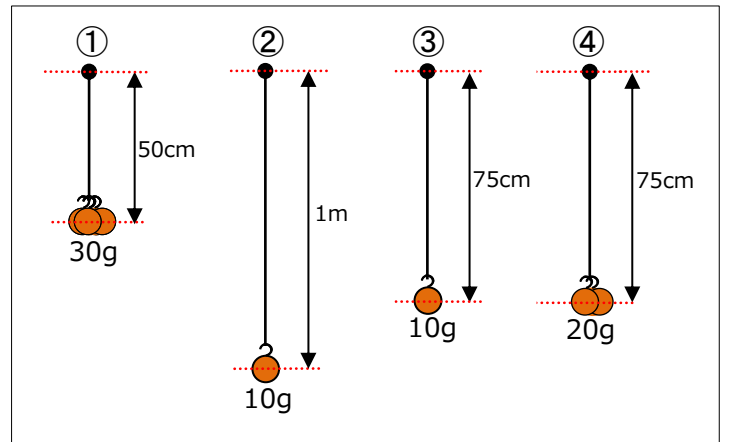
(       )

# 16 ふりこの運動

ふりが <sup>おうふく</sup>1 往復する時間は何によって変わるのかを調べました。

- (1) ふりこの長さによって変わるかどうかを調べるには、  
①～④のどれとどれを比べるとよいですか。

( ② ) と ( ③ )



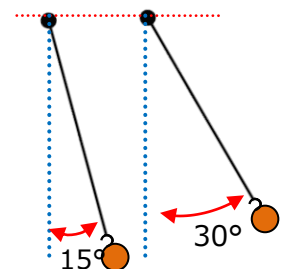
- (2) おもりの重さによって変わるかどうかを調べるには、①～④のどれとどれを比べますか。

( ③ ) と ( ④ )

- (3) ①～④のうち、1 往復する時間が一番長いのはどれですか。

( ② )

- (4) 右の図のように、ふりこのふれはばを大きくすると、ふりが1 往復する時間はどうなりますか。



( 変わらない )

- (5) ふりが1 往復する時間は、何によって変わりますか。

( ふりこの糸の長さ )