

がくねん

1ねん

20までの かず①

1

16は、いくつと6にわけられますか？

(1) に あてはまる かずを かきましょう

① 10 と で 13

② と 6 で 16

③ 17は と 10

④ 20は 10 と

(2) うえの (1) の もんだいを、●をかいて、
ただしいか どうか、たしかめましょう。

いくつと10をあわせると、
17になりますか。

(れい)

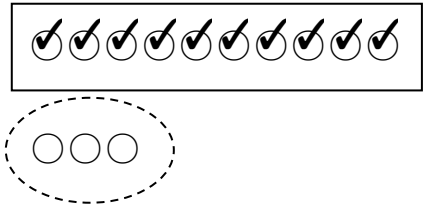
①



と



で



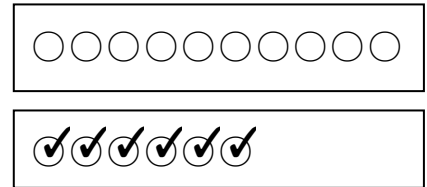
②



と




で



③



は



と



○○○○○○○○


④



は



と



がくねん

1ねん

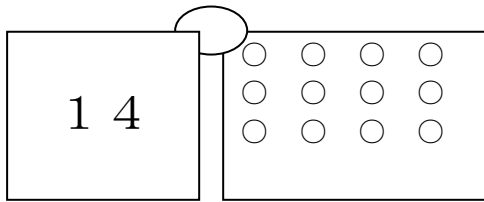
20までの かず②

ねん くみ なまえ

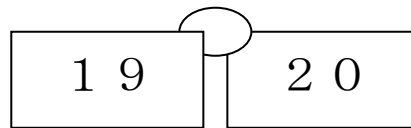
1 おおきい ほうを まるで かこみましょう。

したの のなかに、しきや ずや ことばを かいて
かんがえても かまいません。

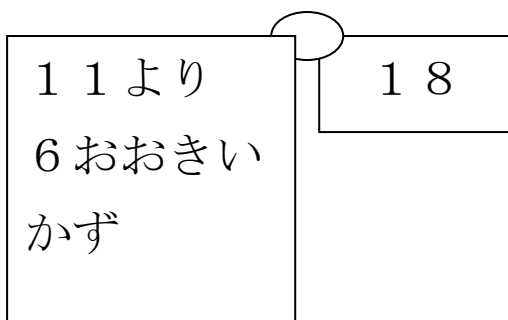
(1)



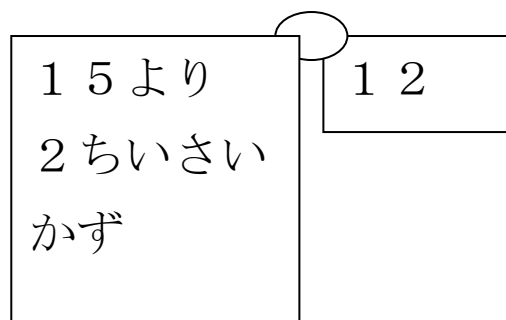
(2)



(3)



(4)



がくねん

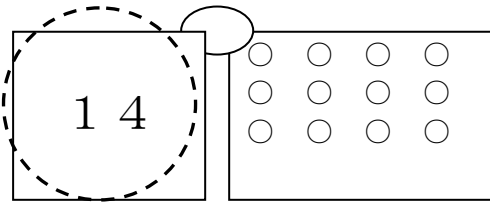
1ねん

20までの かず②

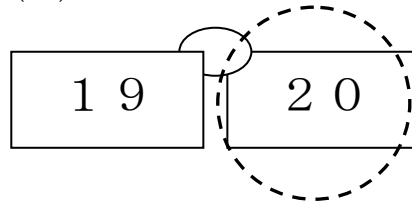
1 おおきい ほうを まるで かこみましょう。

したの のなかに、しきや ずや ことばを かいて
かんがえても かまいません。

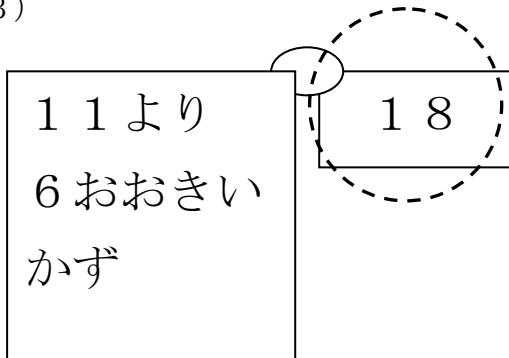
(1)



(2)



(3)



(4)

