

がくねん

1ねん

たしざん (2) ④

ねん くみ なまえ

1 9 + 4 のけいさんのし方をせつめいしています。

(1) ○の なかに すうじを いれましょう。

9 + 4 = ○

・ 9 は あと いくつで、10 に なりますか。 ○

・ 10 の まとまりを つくると、あと いくつ のこっていますか。 ○

・ 10 と 3 を あわせると ○ です。

(2) おなじようなし方で、こたえをもとめましょう。

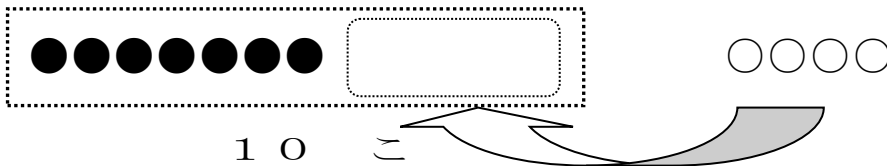
8 + 6 = ○

(3) 6 + 9 = ○

2 □ や □ に ○ や かずを かきましよう。

あかい たまが 7こ しろい たまが 4こ あります。

たまは ぜんぶで なんこ ありますか。



・ しろの たまを あかと あわせて 10こに します。

あかの たまに あわせた しろのたまの ぶんだけ □ に ○ を かきま しょう。

・ つくった 10この かたまりと のこった しろいたま □ ことを あわせると 11こになります。

がくねん

1ねん

たしざん (2) ④

ねん くみ なまえ

1 9 + 4 のけいさんのし方をせつめいしています。

(1) ○の なかに すうじを いれましょう。

9 + 4 =

13

・ 9 は あと いくつで、10 になりますか。

1

4 から 1 つとると・・・

・ 10 の まとまりをつくると、あと いくつのかっていますか。

3

・ 10 と 3 を あわせると

13

です。

(2) おなじようなし方で、こたえをもとめましょう。

8 + 6 =

14

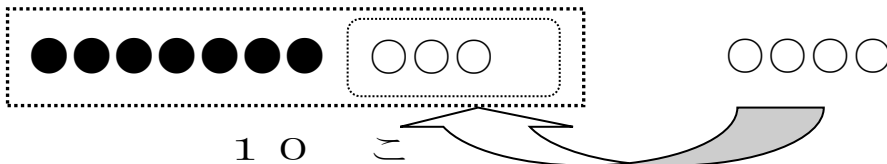
(3) 6 + 9 =

15

2 や に ○ や かずを かきましょう。

あかい たまが 7 こ しろい たまが 4 こ あります。

たまは ぜんぶで なんこ ありますか。



・ しろの たまを あかと あわせて 10 こに します。

あかの たまに あわせた しろのたまのぶんだけ に ○ を かきましよう。

・ つくった 10 この かたまりと のこった しろいたま 1 こを あわせると 11 こになります。

がくねん

1ねん

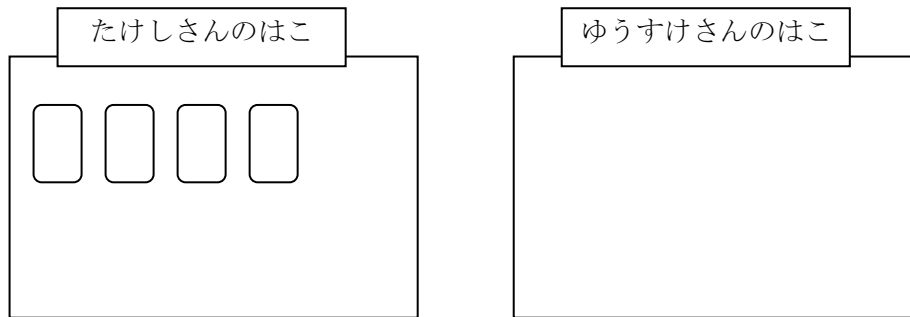
たしざん (2) ⑤

ねん くみ なまえ

- 1 たけしさんは はこにカードを 4まい、ゆうすけさんは カードを 7まいもっています。
ふたりの カードを あわせると なんまいに なりますか。

(えを かいて かんがえましょう。)

(1) したの「ゆうすけ」さんの はこのなかに カードのえを かきましょう。



- (2) たけしさんの はこに カードが 4まい、ゆうすけさん はこに カードが7まい はい
っています。

たけしさん、ゆうすけさんの どちらのはこの カードを、10まいに まとめますか。

2つのし方で、かんがえましょう。

《 1つめの仕方 》

ゆうすけさんの はこに 10まい まとめます。

そのために () さんのはこのカードを () まいとって

() さんのはこに 入れて 10まいにします。

() さんのはこには () まい のこります。

だから ぜんぶで () まい です。

《 2つめの仕方 》

たけしさんの はこに 10まい まとめます。

そのために () さんのはこのカードを () まいにとって

() さんのはこに 入れて 10まいにします。

() さんのはこには () まい のこります。

だから ぜんぶで () まい です。

(3) ふたりの カードを あわせると なんまいに なりますか。

しきと こたえをかきましょう。

(しき)

(こたえ)

2 ビーだまが あかい ふくろには 3こ、しろい ふくろには 9こ はいっています。

あわせると なんこに なりますか。

(しき)

(こたえ)

がくねん

1ねん

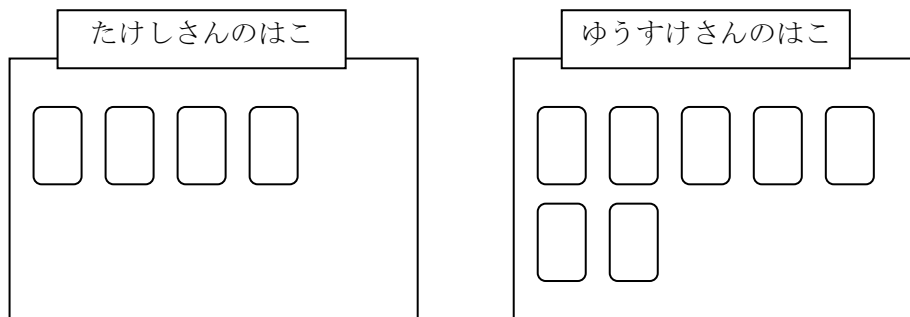
たしざん (2) ⑤

ねん くみ なまえ

- 1 たけしさんは はこにカードを 4まい、ゆうすけさんは カードを 7まいもっています。
ふたりの カードを あわせると なんまいに なりますか。

(えを かいて かんがえましょう。)

- (1) したの「ゆうすけ」さんの はこのなかに カードのえを かきましよう。



- (2) たけしさんの はこに カードが 4まい、ゆうすけさん はこに カードが7まい はい
っています。

たけしさん、ゆうすけさんの どちらのはこの カードを、10まいに まとめますか。

2つのし方で、かんがえましよう。

《 1つめのし方 》

ゆうすけさんの はこに 10まい まとめます。

そのために (たけし) さんのはこのカードを (3) まいとって

(ゆうすけ) さんのはこに 入れて 10まいにします。

(たけし) さんのはこには (1) まい のこります。

だから ぜんぶで (11) まい です。

《 2つめの仕方 》

たけしさんの はこに 10まい まとめます。

そのために (ゆうすけ) さんのはこのカードを (6) まいとして
(たけし) さんのはこに 入れて 10まいにします。

(ゆうすけ) さんのはこには (1) まい のこります。

だから ぜんぶで (11) まい です。

(3) ふたりの カードを あわせると なんまいに なりますか。

しきと こたえをかきましょう。

(しき) $4 + 7 = 11$

あわせると ふえるから
たしざん ですね。

(こたえ) 11まい

2 ビーだまが あかい ふくろには 2こ、しろい ふくろには 9こ はいっています。

あわせると なんこに なりますか。

(しき1) $2 + 9 = 11$
1 1

$9 + 1 = 10$
 $2 - 1 = 1$
 $1 + 10 = 11$ と かんがえたんだね。

(こたえ) 11こ

(しき2) $2 + 9 = 11$
8 1

(こたえ) 11こ

$2 + 8 = 10$
 $9 - 8 = 1$
 $10 + 1 = 11$ と かんがえたんだね。

どちらのほうほうでも、
かんがえられるね。