

がくねん

1ねん

ひきざん (2) ⑤

ねん くみ なまえ

- 1 りんごが 11こ あります。  
おさらの うえに、 りんごを 1つずつ おきたいのですが、  
おさが 5まい たりません。

(1) うえの ぶんを よんで、えの つづきを かきましょう。



おさが あまるのかな？

りんごが あまるのかな？



(2) おさと りんごは どちらの ほうが おおいですか。

( おさ ・ りんご ) の ほうが おおい。

(3) はじめにあった おさは なんまい ですか。

に あてはまる ことばや しきを かきましょう。

① りんごが 11こ ある。

②  が 5まい たりない。

③ だから、  しき

はじめに あった おさは、  まい。



がくねん

1ねん


ひきざん (2) ⑤

ねん くみ なまえ

- 1 りんごが 11こ あります。  
おさらの うえに、 りんごを 1つずつ おきたいのですが、  
おさが 5まい たりません。

おさにのっていない  
りんごが 5こ という  
ことだね。

- (1) うえの ぶんを よんで、えの つづきを かきましょう。



おさが あまるのかな？  
りんごが あまるのかな？



- (2) おさと りんごは どちらの ほうが おおいですか。

( おさ ・ りんご ) の ほうが おおい。

おさが たりない から  
りんごのかずの ほうが  
おおいと わかるよ。

- (3) はじめにあった おさは なんまい ですか。

に あてはまる ことばや しきを かきましょう。

- ① りんごが 11こ ある。

- ②  が 5まい たりない。

- ③ だから、 しき  $11 - 5 = 6$

(ぜんぶのりんごのかず) -  
(たりないのおさのかず)  
をすれば、りんごがのっ  
ているおさのかずがわかるね。

はじめに あった おさは、  まい。



がくねん

1ねん

# ひきざん (2) ⑥

ねん くみ なまえ

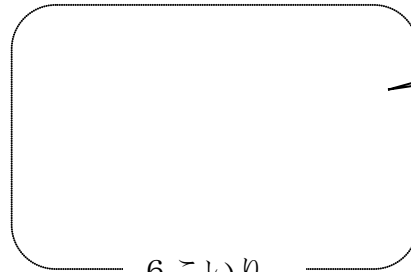
- 1 みちるさんは、10こいりの たまごパック と 6こいりの たまごパックを 1つずつ かいました。 いえに かえると、5こ われて いました。

(1) みちるさんが かった たまごは、 ぜんぶで なんこでしょうか。

- ① かった たまご ( ○ ) の かずを、えに あらわして こたえましょう。  
たまごパックも かきましょう。



10こいり



6こいり

たまご ぱっくの つづきを かきましょう。

1)

- ② ①でかいた えに、われた たまごの しるし ( ✕ ) をかきくわえましょう。

われて いない たまごは なんこ あるでしょうか。

こ

- ③ われて いない たまごの かずを もとめる しきを かきましょう。

しき

われていない たまごは

こ

がくねん

1ねん

ひきざん (2) ⑥

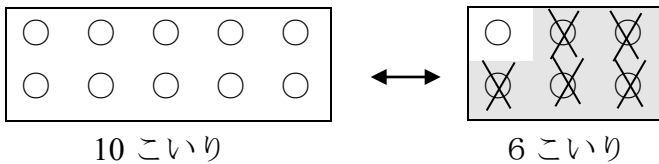
ねん くみ なまえ

1 みちるさんは、10こいりの たまごパック と 6こいりの たまごパックを 1つずつ かいました。 いえに かえると、5こ われて いました。

(1) みちるさんが かった たまごは、 ぜんぶで なんこでしょうか。

① かった たまご (○) の かずを、えに あらわして こたえましょう。 たまごパックも かきましょう。

(かいとうれい)



10と 6を あわせたら かってきた たまごの かずになるよ。

16こ

② ①で かいだ えに、われたたまごの しるし (X) をかきくわえましょう。

われて いない たまごは なんこ あるでしょうか。

われた たまごを まとめると わかりやすいよ。

11こ

③ われて いない たまごの かずを もとめる しきを かきましょう。

しき  $16 - 5 = 11$

6 - 5 = 1 は いままでに がくしゅう したことがあるよ。

われていない たまごは

11こ

がくねん

1ねん

# ひきざん (2) ⑦

ねん くみ なまえ

- 1 しゅんたさんと みきさんが シュートゲームを しています。  
 ○は はいったことを、×は はいらなかったことを あらわして います。

<しゅんたさん>

○	○	○	×	×	○	○	○	○	○
×	○	×	○	×	○	○	×	○	○

- (1) しゅんたさんは、なんかい はいった でしょうか。

かい



- (2) しゅんたさんは、みきさんより 5かい おおく はいった そうです。  
 みきさんは、なんかい はいった でしょうか。  
 えの つづきを かいて かんがえましょう。

しゅんたさん ○○○○○○○○○○○ ○○○○

みきさん ●

しき

こたえ かい

- (3) みきさんの シュートゲームの つづきを かんせい させましょう。  
 こたえは 1つでは ありません。

<みきさん>

×	○	○	×	×	○	○	×	×	○
×	×	×	○	×	×	○			

がくねん  
 1ねん

ひきざん (2) ⑦

ねん くみ なまえ

- 1 しゅんたさんと みきさんが シュートゲームを しています。  
 ○は はいったことを、×は はいらなかったことを あらわして います。

<しゅんたさん>

○	○	○	×	×	○	○	○	○	○
×	○	×	○	×	○	○	×	○	○

- (1) しゅんたさんは、なんかい はいった でしょうか。

14 かい

○の かずを  
かぞえると いいよ。



- (2) しゅんたさんは、みきさんより 5かい おおく はいった そうです。  
 みきさんは、なんかい はいった でしょうか。  
 えの つづきを かいて かんがえましょう。

しゅんたさん ○○○○○○○○○○○ ○○○○  
 みきさん ●●●●●●●●

しき  $14 - 5 = 9$

こたえ 9 かい

- (3) みきさんの シュートゲームの つづきを かんせい させましょう。  
 こたえは 1つでは ありません。

ここまでで 7かい はいっているよ。  
 あと2かい はいった はず……

<みきさん>

×	○	○	×	×	○	○	×	×	○
×	×	×	○	×	×	○	○	○	×

×○○ ○×○  
 でもよい。

がくねん

1ねん

# ひきざん (2) ⑧

ねん くみ なまえ

1 ゆうたさんは ひきざんの けいさんを して、ある きまりに きづきました。

(あ)	1 1	-	6	=	
(い)	1 2	-	7	=	
(う)	1 3	-	8	=	
(え)	1 4	-	9	=	

あれっ？

こたえが すべて おなじに  
なっているぞ！

ふしぎだなあ。



(1) (あ) (い) (う) (え) の けいさんを して、こたえを うえの

に かきましょう。

(2) ゆうたさんは、つぎの ように はなしています。

「きまりを つかえば、けいさんを しなくても、『15-10』の

こたえが 5だと わかるよ。」

ゆうたさんが みつけた きまりを  と  の すうじの ならびかたを みて、  
せつめい しましょう。

がくねん  
1ねん

ひきざん (2) ⑧

ねん くみ なまえ

1 ゆうたさんは ひきざんの けいさんを して、ある きまりに きづきました。

(あ)	1 1	-	6	=	5
(い)	1 2	-	7	=	5
(う)	1 3	-	8	=	5
(え)	1 4	-	9	=	5

あれっ?  
こたえが すべて おなじに  
なっているぞ!  
ふしぎだなあ。



(1) (あ) (い) (う) (え) の けいさんを して、こたえを うえの

に かきましょう。

15-10は、(え)の つぎの  
けいさんだよ。  
 も 1ずつ ふえている。だ  
から こたえは かわらないよ。

(2) ゆうたさんは、つぎの ように はなしています。

「きまりを つかえば、けいさんを しなくても、『15-10』の  
こたえが 5だと わかるよ。」  
ゆうたさんが みつけた きまりを  と  の すうじの ならびかたを みて、  
せつめい しましょう。

は、11, 12, 13, 14と 1ずつ ふえて いる。14の つぎは 15。  
 は、6, 7, 8, 9と 1ずつ ふえて いる。9の つぎは 10。  
だから、「15-10」も きまりに あてはまる から 5に なる。