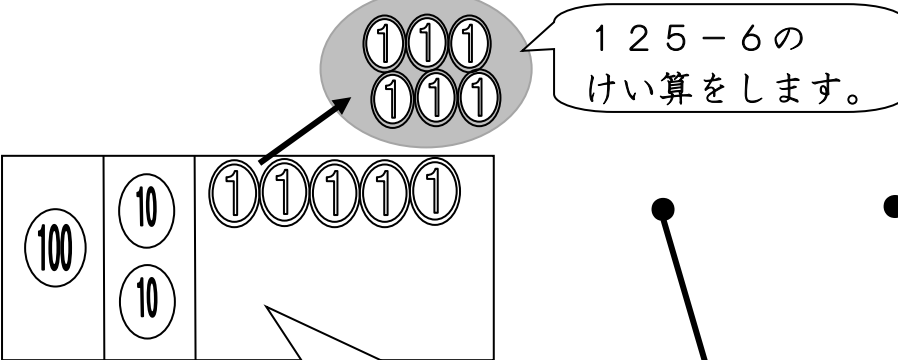


【小学校算数・ワークブック】

|     |                        |
|-----|------------------------|
| 学 年 | ひき算のひっ算 (2) ① (くりさがり①) |
| 2年  |                        |

年    ぐみ   名まえ

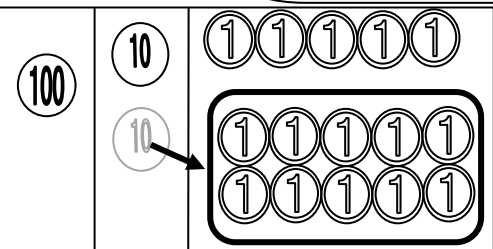
**1** 125-6の計算について、お金の計算と、ひっ算のしかたが合うものをえらんで線でむすびましょう。



125-6の  
けい算をします。

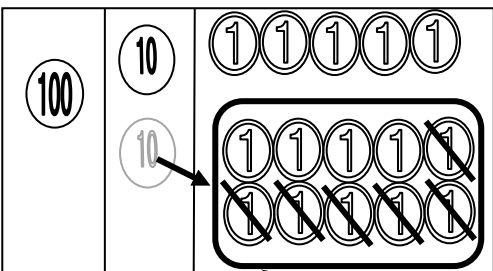
↓

5円から6円は、  
ひけません。



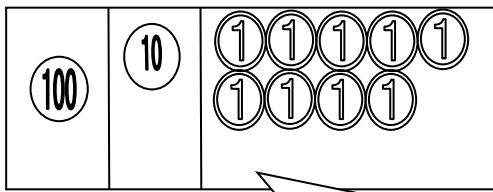
↓

10円玉を1円玉に  
かえてもらいました。



↓

6円をひきます。



のこったのは、ぜんぶで  
(                    ) 円です。

|   |                           |                 |
|---|---------------------------|-----------------|
| 百 | 十                         | 一               |
| 1 | <del>2</del> <sup>1</sup> | 5 <sup>10</sup> |
| - |                           | 6               |
|   |                           | 9               |

|   |                           |                 |
|---|---------------------------|-----------------|
| 百 | 十                         | 一               |
| 1 | <del>2</del> <sup>1</sup> | 5 <sup>10</sup> |
| - |                           | 6               |
|   |                           |                 |

|   |   |   |
|---|---|---|
| 百 | 十 | 一 |
| 1 | 2 | 5 |
| - |   | 6 |
|   |   |   |

|   |                           |                 |
|---|---------------------------|-----------------|
| 百 | 十                         | 一               |
| 1 | <del>2</del> <sup>1</sup> | 5 <sup>10</sup> |
| - |                           | 6               |
| 1 | 1                         | 9               |

学年 2年  
ひき算のひっ算 (2) ① (くりさがり①)

年 くみ 名まえ

1 125-6の計算について、お金の計算と、ひっ算のしかたが合うものをえらんで線でむすびましょう。

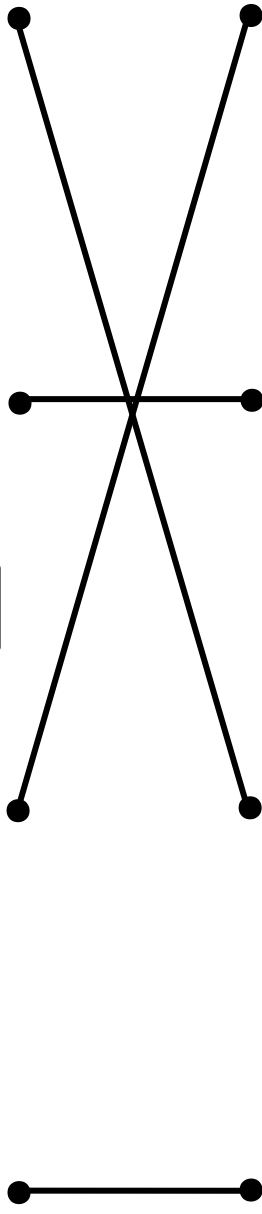
125-6の  
けい算をします。

5円から6円は、  
ひけません。

10円玉を1円玉に  
かえてもらいました。

6円をひきます。

のこったのは、ぜんぶで ( ) 円です。



|   |                           |                 |
|---|---------------------------|-----------------|
| 百 | 十                         | 一               |
| 1 | <del>2</del> <sup>1</sup> | 5 <sup>10</sup> |
| - |                           | 6               |
|   |                           | 9               |

|   |                           |                 |
|---|---------------------------|-----------------|
| 百 | 十                         | 一               |
| 1 | <del>2</del> <sup>1</sup> | 5 <sup>10</sup> |
| - |                           | 6               |
|   |                           |                 |

|   |   |   |
|---|---|---|
| 百 | 十 | 一 |
| 1 | 2 | 5 |
| - |   | 6 |
|   |   |   |

|   |                           |                 |
|---|---------------------------|-----------------|
| 百 | 十                         | 一               |
| 1 | <del>2</del> <sup>1</sup> | 5 <sup>10</sup> |
| - |                           | 6               |
| 1 | 1                         | 9               |

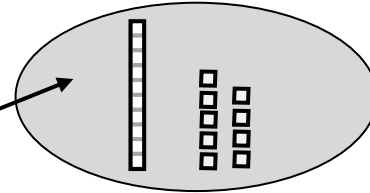
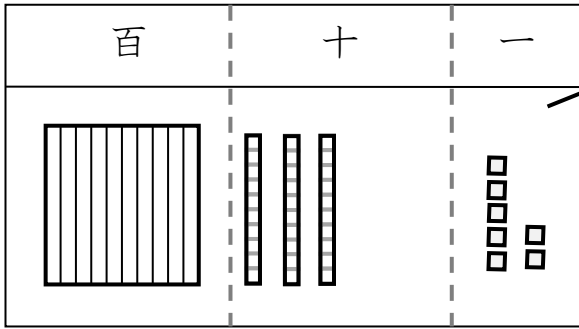
学 年

2年


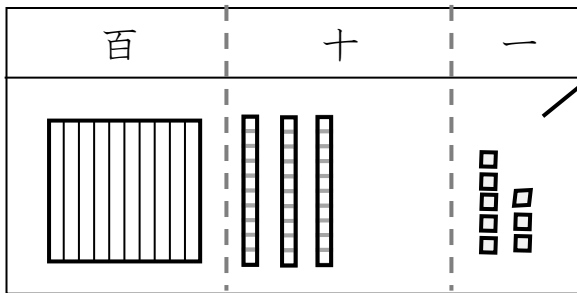
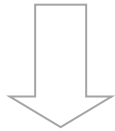
ひき算のひっ算 (2) ② (くりさがり②)

年 ぐみ 名まえ

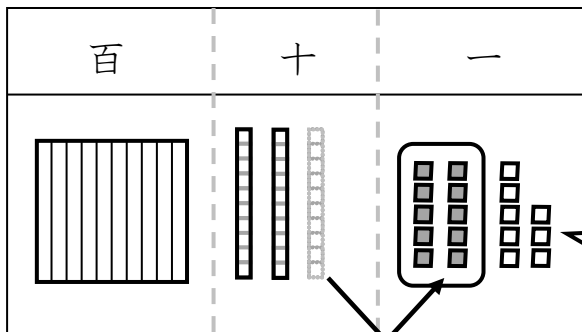
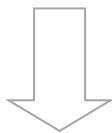
138-19の計算をしています。タイル図を見ながら、かっこの中に正しいせつ明を書きいれましょう。



138-19の計算をします。

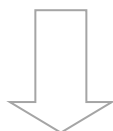


まず、一のくらいから9をひきます。  
でも、8から9はひけません。



だから、

( )

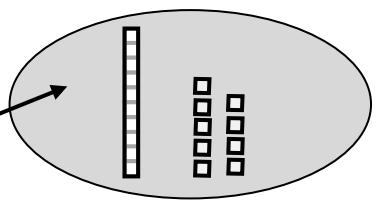
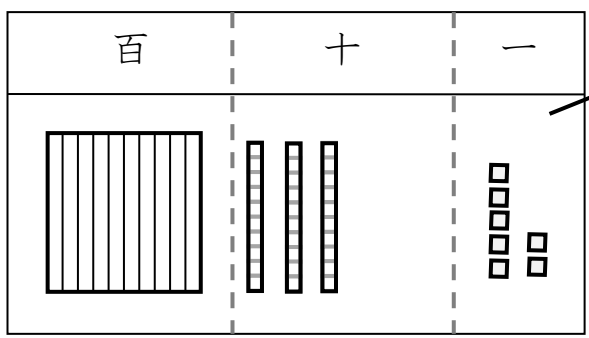




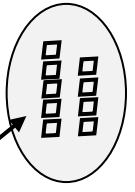
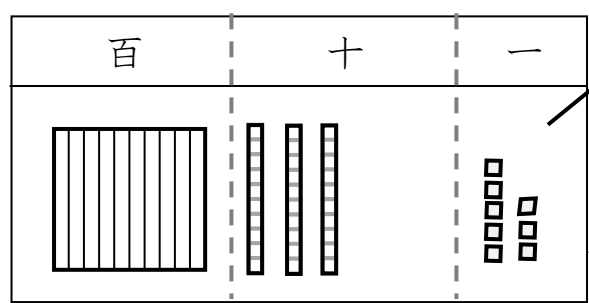
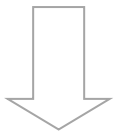
|     |                        |
|-----|------------------------|
| 学 年 | ひき算のひっ算 (2) ② (くりさがり②) |
| 2年  |                        |

年 くみ 名まえ

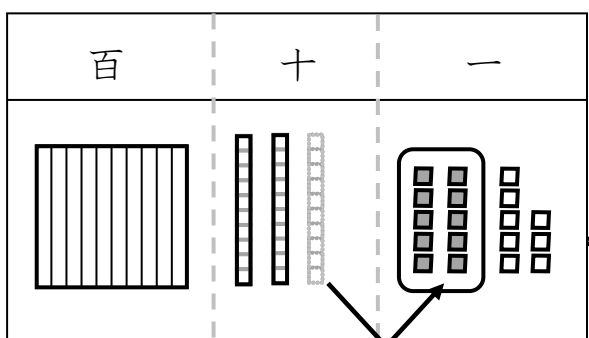
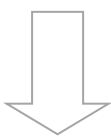
138-19の計算をしています。タイル図を見ながら、かっこの中に正しいせつ明を書きいれましょう。



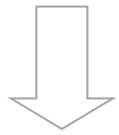
138-19の計算をします。

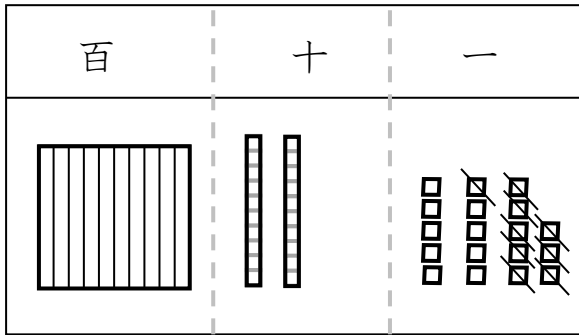


まず、一のくらいから9をひきます。  
でも、8から9はひけません。

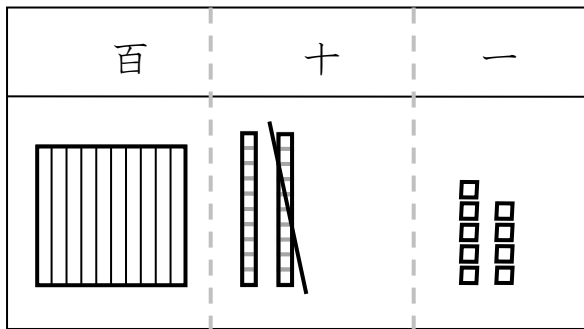
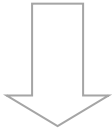


だから、  
十のくらいから、10かりてきます。

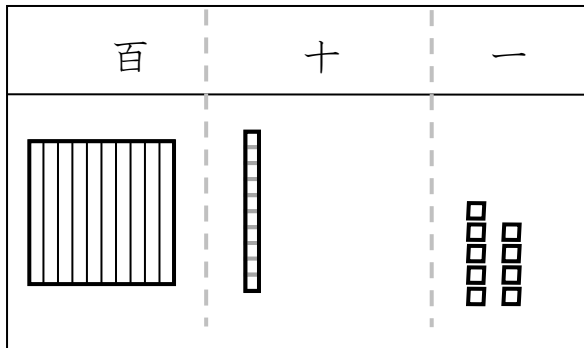
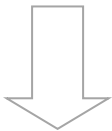




9をひきます。



次に、十のくらいから1をひきます。



だから、  
答えは **119** ] です。

上のタイル図を見て、  
計算のじゅんじょを考えな  
がら、ひっ算をしてみま  
しょう。

