


学 年

2年

かけ算 (4) ①

年 くみ 名まえ


1 おさらののっている りんごの かずを しらべましょう。



りんごのかずは ぜんぶで いくつですか。たしざんの しきに してみましょう。

$$\boxed{\phantom{0000}} = \boxed{\phantom{0000}}$$

こたえ \_\_\_\_\_ こ



りんごのかずは ぜんぶで いくつですか。たしざんの しきに してみましょう。

$$\boxed{\phantom{0000}} = \boxed{\phantom{0000}}$$

こたえ \_\_\_\_\_ こ

(3) (1) のえと、(2) のえでは、かけざんの しきに できるのは どちらでしょう。

また、その理由もかきましょう。

学 年





2年

## かけ算 (4) ①

年 くみ 名まえ

1 おさらののっている りんごの かずを しらべましょう。

(1)



りんごのかずは ぜんぶで いくつですか。たしざんの しきに してみましょう。





$$2 + 3 + 2 + 4$$

=

$$11$$

こたえ 11 こ

(2)



りんごのかずは ぜんぶで いくつですか。たしざんの しきに してみましょう。

$$3 + 3 + 3 + 3$$

=

$$12$$

こたえ 12 こ

(3) (1) のえと、(2) のえでは、かけざんの しきに できるのは どちらでしょう。

(2) のえ

また、その理由もかきましょう。

(1) のほうは、おさらの上のりんごのかずが、それぞれちがう。

(2) のほうは、おさらの上のりんごのかずが、全部いっしょだから、かけさんの しきに できる。

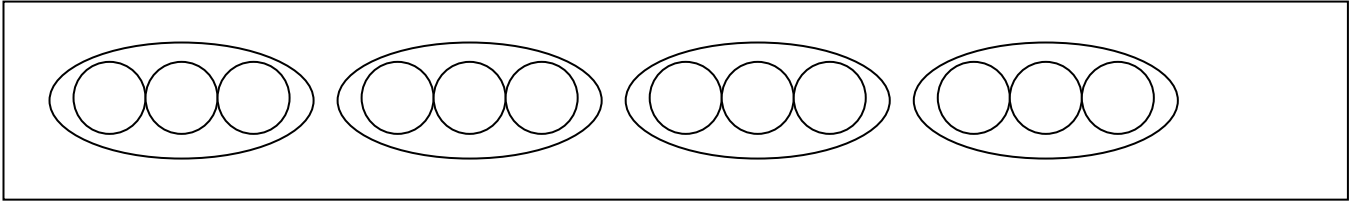
学 年

2年

## かけ算 (4) ②

年 ぐみ 名まえ

1 (れい) のように しきに あう ずを かきましょう。

(れい)  $3 \times 4$ ①  $2 \times 3$ ②  $4 \times 5$ ③  $7 \times 2$ ④  $2 \times 7$

学 年

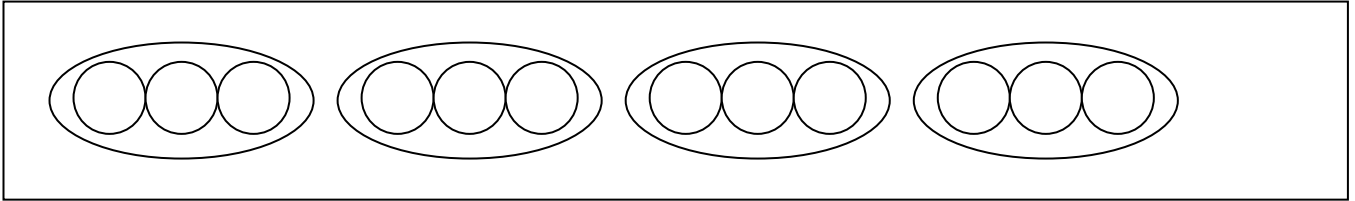
2 年

かけ算 (4) ②

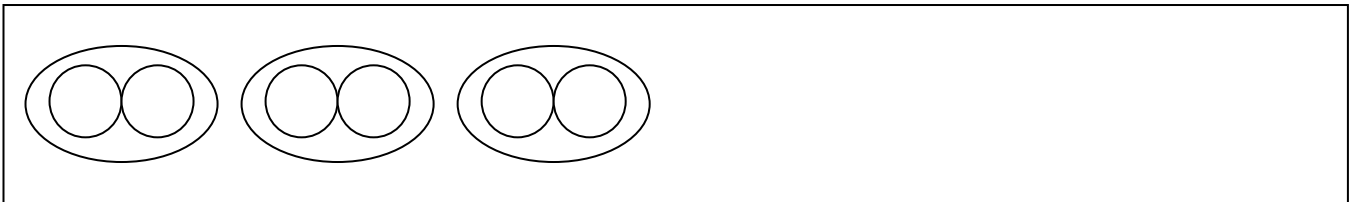
年 くみ 名まえ

1 (れい) のように しきに あう ずを かきましょう。

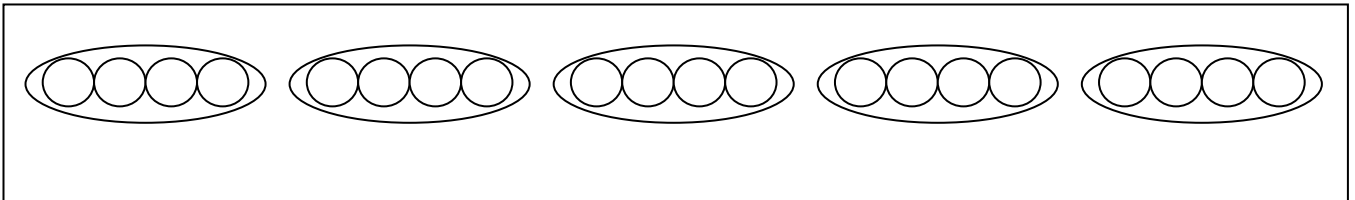
(れい)  $3 \times 4$



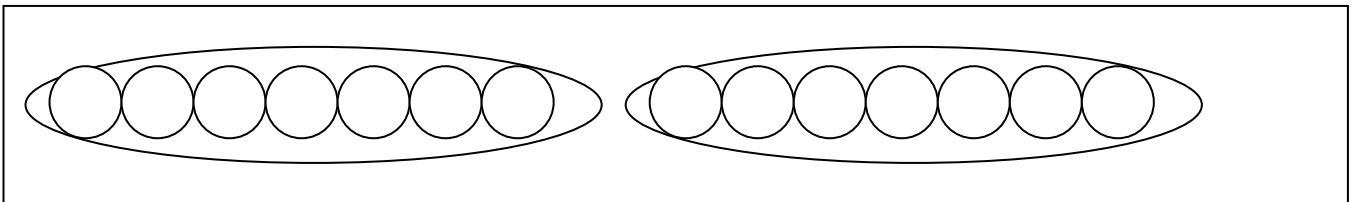
①  $2 \times 3$



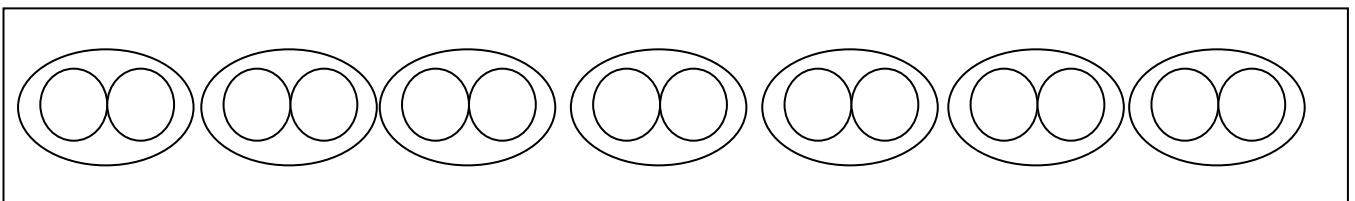
②  $4 \times 5$



③  $7 \times 2$



④  $2 \times 7$



学 年

2年

かけ算 (4) ③

年 くみ 名まえ

1 2のだんの 九九の こたえを かきましょう。

$2 \times 1 = ( )$

$2 \times 2 = ( )$

$2 \times 3 = ( )$

$2 \times 4 = ( )$

$2 \times 5 = ( )$

$2 \times 6 = ( )$


$2 \times 7 = ( )$

$2 \times 8 = ( )$


$2 \times 9 = ( )$

2 つぎのうち、2のだんの 九九に なるものに ○を つけましょう。

(1) おさらの 2つに のった いちごのかず



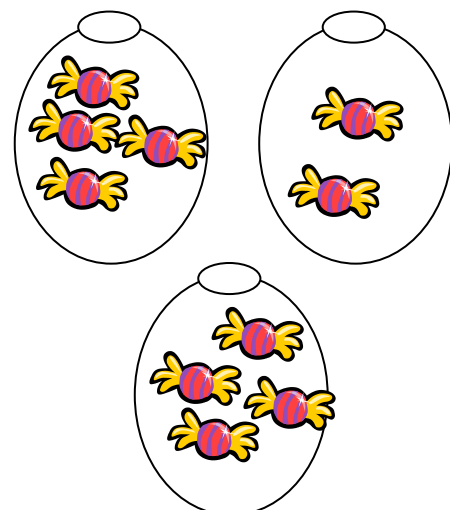
(2) はこに入った クッキーのかず



(3) じてんしゃの 2つに のった タイヤのかず



(4) ふくろに入った あめのかず



学 年

2年

かけ算 (4) ③

年 くみ 名まえ

1 2のだんの 九九の こたえを かきましょう。

$2 \times 1 = ( 2 )$

$2 \times 2 = ( 4 )$

$2 \times 3 = ( 6 )$

$2 \times 4 = ( 8 )$

$2 \times 5 = ( 10 )$

$2 \times 6 = ( 12 )$

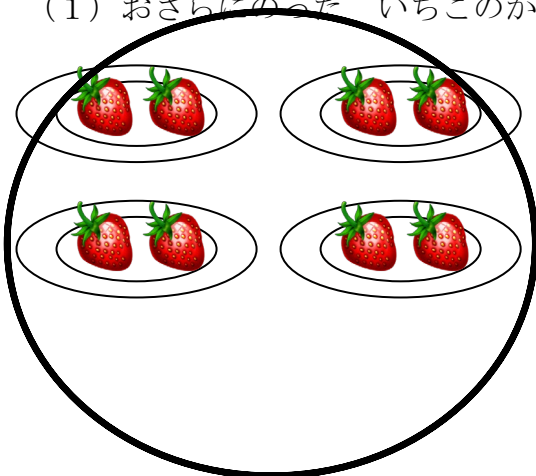
$2 \times 7 = ( 14 )$

$2 \times 8 = ( 16 )$


$2 \times 9 = ( 18 )$

2 つぎのうち、2のだんの 九九に なるものに ○を つけましょう。


(1) おさらにとった いちごのかず



(2) はこに入った クッキーのかず



(3) じてんしゃの タイヤのかず



(4) ふくろに入った あめのかず

